

Deures d'estiu 2016-17

4t d'Eso Música

Part teòrica:

Revisar el temari de l'examen de Setembre que serà el mateix que el del 3r trimestre (tenen les preguntes apuntades a la llibreta, si hi ha qualsevol dubte és pot trobar fàcilment per internet):

- Notes del pentagrama (línies i espais)
- Notes de les línies addicionals (inferiors i superiors)
- Conceptes de ritme i pulsació
- Figures i silencis musicals (quant duren i la grafia)
- Equivalències de les figures musicals
- El puntet musical
- Lligadura mètrica
- Compassos 2/4, 3/4, i 4/4
- Omplir 4 compassos amb figures musicals amb els compassos esmentats anteriorment.
- Dibuixar les línies divisòries d'una partitura amb un compàs donat (dels d'abans mencionats).
- Posicions de les notes a la flauta
- Xifrat modern (també anomenat anglosaxó o americà)
- Repertori: Sobre una partitura donada, escriure-hi les notes, escriure-hi les pulsacions i transcriure el xifrat modern.

Part pràctica:

Estudiar 1 peça de les treballades al llarg del curs (les tenen apuntades a la llibreta) o bé triar-ne una de lliure elecció (es pot extreure d'altres cursos, internet, etc. En el segon cas cal imprimir i portar la partitura).

Activitat:

Entregar el dia de l'examen la següent activitat. És un model de la prova que es trobaran al Setembre.

Activitat de música

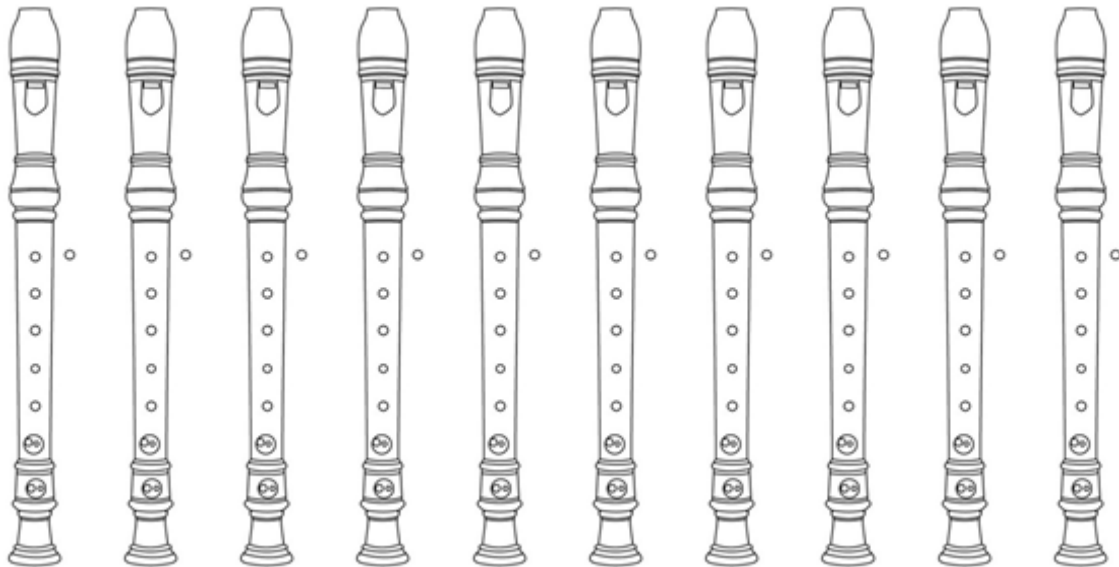
Data:

Nom i Cognoms:

Curs:

Notes del pentagrama i línies addicionals; figures i silencis musicals; equivalències; compassos; puntet; lligadura i xifrat modern Model VI

1.-) Posicions de les notes a la flauta




Do' Do Sol Re Si Fa La Mi Re' Mi'

2.-) Omple 4 compassos en compàs de 2/4




3.-) Repertori: Escriu el nom a sobre de la nota, marca les pulsacions a sota i escriu el xifrat modern. Fragment de *Boig per tu*. Sau.



4.-) Escriu el nom d'aquestes notes a sota (línies i espais). Escriu les cometes si és necessari.



5.-) Dibuixa la nota a sobre del nom (línies i espais).




Mi Fa Mi' Do' Fa' si la re' sol fa'

6.-) Escriu el nom de les notes addicionals i dibuixa les notes segons correspongui (inferiors)

Fa Re Si Do La



7.-) Escriu el nom de les notes addicionals i dibuixa les notes segons correspongui (superiors)



Re sol do si fa

8.-) Dibuixa al costat de cada figura el seu silenci



9.-) Quant duren? Escriu amb fraccions el valor de cada cas a sota i al costat el resultat final.



10.-) Equivalències

$\text{quarter note} = \underline{\quad} \text{eighth note}$ $\text{half note} = \underline{\quad} \text{quarter note}$ $\text{dotted quarter note} = \underline{\quad} \text{quarter note}$ $\text{quarter note} = \underline{\quad} \text{eighth note}$

11.-) Escriu les línies divisòries (Fragment de la BSO de *El Sr dels Anells*, Howard Shore)

